

Exercice 1 : www.coursfacile.com

Compléter le tableau suivant.

La grandeur physique	La masse	L'intensité du poids	L'intensité de pesanteur
Le symbole			
Le symbole de l'unité de mesure			

Exercice 2 :

Choisir la bonne réponse.

- La relation entre l'intensité du poids et la masse est :
 - ☐ $P = \frac{g}{m}$
 - ☐ $m = P \times g$
 - ☐ $g = \frac{P}{m}$
- L'intensité du poids d'un corps de masse $m=150g$ situé à la surface de la terre où $g=10N/Kg$ est :
 - ☐ $P = 150N$
 - ☐ $P = 15N$
 - ☐ $P = 1,5N$
- L'intensité du poids d'un objet sur la lune est :
 - ☐ inférieure à celle de son poids sur la terre.
 - ☐ égale à celle de son poids sur la terre.
 - ☐ supérieure à celle de son poids sur la terre.
- L'intensité du poids d'un corps :
 - ☐ augmente avec l'altitude.
 - ☐ diminue avec l'altitude.
 - ☐ ne varie pas avec l'altitude.
- La masse d'un objet c'est :
 - ☐ Le poids de cet objet.
 - ☐ L'intensité du poids de cet objet.
 - ☐ la quantité de matière qui constitue cet objet.
- L'intensité de pesanteur g varie :
 - ☐ seulement avec l'altitude.
 - ☐ seulement avec la latitude.
 - ☐ avec l'altitude et la latitude.
- le centre de gravité G d'un corps est situé :
 - ☐ toujours au centre du corps.
 - ☐ au centre d'un corps de forme géométrique simple.
 - ☐ au centre d'un corps solide hétérogène.

Exercice 3 :

On considère les deux schémas suivants :

schéma (1)





schéma (2)



- Préciser le schéma correct. justifier.

Exercice 4 :

On considère un corps solide de masse $m = 65Kg$. Calculer l'intensité de son poids dans le pôle nord et dans l'équateur.
On donne : • dans le pôle nord : $g = 9,83 N/Kg$.
• dans l'équateur : $g = 9,78 N/Kg$.

Exercice 5 :

L'intensité du poids d'une personne à Casablanca est $4900N$. Sachant que l'intensité de pesanteur à Casablanca est $g = 9,8 N/Kg$.

- 1- Retrouver la masse de cette personne.
- 2- Calculer l'intensité de son poids à paris où $g = 9,81 N/Kg$.


Exercice 6 :

On réalise les mesures suivantes.

figure (1)



figure (2)



- 1- déterminer en **Kg** la masse de la pomme.
- 2- déterminer l'intensité du poids de la pomme.
- 3- En déduire l'intensité de pesanteur du lieu où les mesures ont été effectuées.
- 4- représenter sur la figure (2) le poids de la pomme en utilisant l'échelle **1N ↔ 1cm**.
- 5- supposant que les mesures ont été effectuées sur la lune où $g = 1,6 N/Kg$.
 - a- quelle serait l'indication de la balance ?
 - b- quelle serait l'indication du dynamomètre ? justifier.

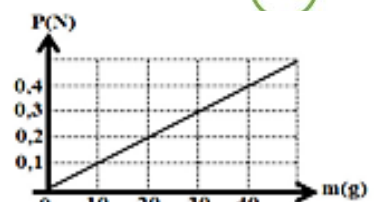
Exercice 7 :

On réalise l'expérience suivante à la surface de la terre où $g = 10 N/Kg$.

- 1- Donner le bilan des forces exercées sur la balle.
- 2- déterminer les caractéristiques du poids de la balle.
- 3- Calculer la masse de la balle.
- 4- Représenter le poids de la balle
En respectant l'échelle : **3N ↔ 1cm**

Exercice 8 :

On considère la courbe ci-dessous qui représente les variations de l'intensité du poids en fonctions de la masse dans un lieu donné.
• Déterminer l'intensité de pesanteur dans ce lieu.



Balle

