

1

Relier chaque microbe à la catégorie qui lui correspond.

a. COVID-19.....●

b. Amibe.....●

c. Pénicillium.....●

d. Bacille de Koch.....●

● 1. Protozoaires.....

● 2. Virus.....

● 3. Bactéries.....

● 4. Champignons.....

Exercice N°2

1

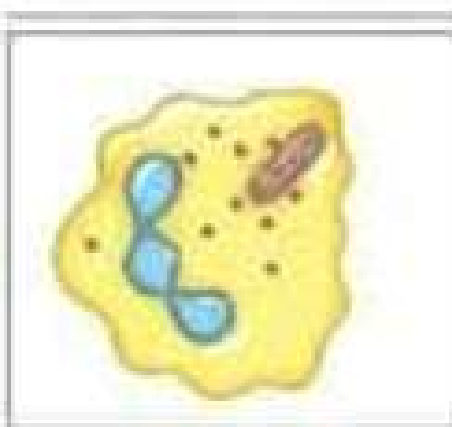
Cocher la bonne réponse.

Affirmations	Vrai	Faux
La sérothérapie est une mesure destinée à guérir un malade.	<input type="checkbox"/>	<input type="checkbox"/>
Les larmes et le suc gastrique forment des barrières chimiques.	<input type="checkbox"/>	<input type="checkbox"/>
La vaccination est l'injection d'anticorps spécifiques.	<input type="checkbox"/>	<input type="checkbox"/>
La maturation des lymphocytes B se fait dans le thymus.	<input type="checkbox"/>	<input type="checkbox"/>

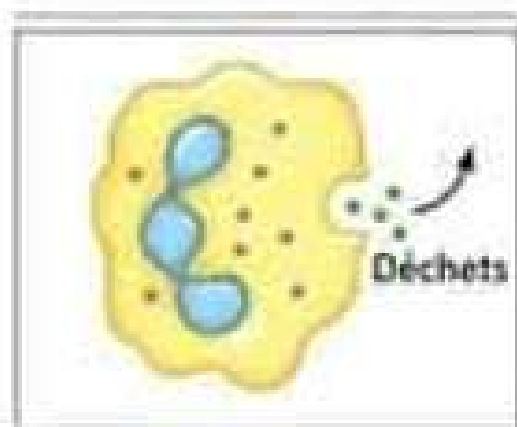
Exercice N°3

1

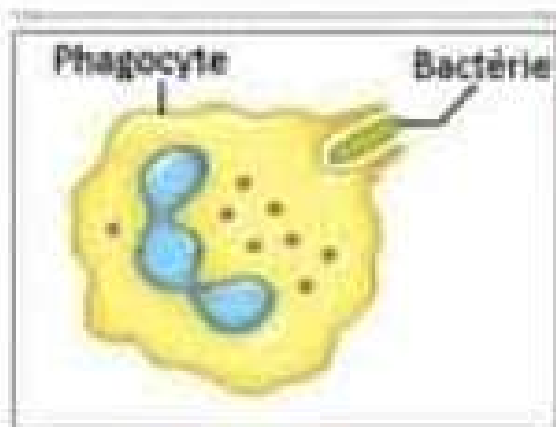
Les schémas suivants représentent les étapes d'une phagocytose dans le désordre. Numéroté, dans l'ordre, les étapes de la phagocytose. Donner un titre pour chaque étape.



1



2



3

Exercice N°4

1

Proposer quelques moyens de prévention contre la transmission du SIDA.