
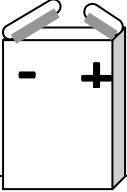




Exercices

Exercice n°1 :

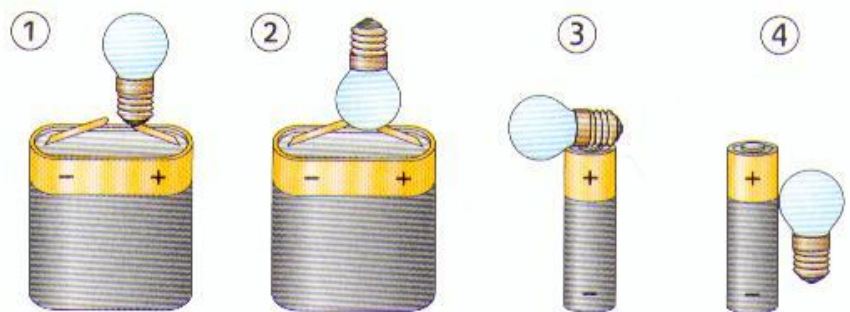
Voici différents éléments d'un circuit électrique. Pour chacun d'entre eux, indiquer :

1. Quel est leur nom?
2. Quel est leur symbole ?
3. Quel est leur rôle dans le circuit?

L'élément électrique				
Le nom
Le symbole				
Le rôle

Exercice n°2:

1. Expliquer, par une seule phrase, pourquoi les montages ci-contre ne permettent pas de faire briller les lampes.



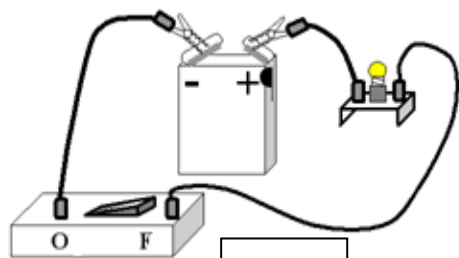
.....
.....
.....

2. Compléter, directement sur le sujet, les montages en rajoutant le ou les éléments nécessaires pour faire briller les lampes.

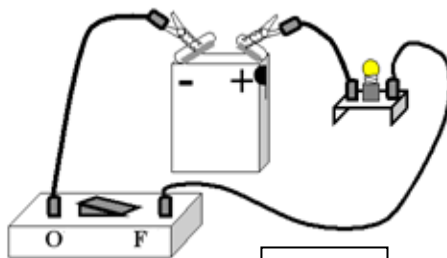
www.coursfacile.com

Exercice n° 3:

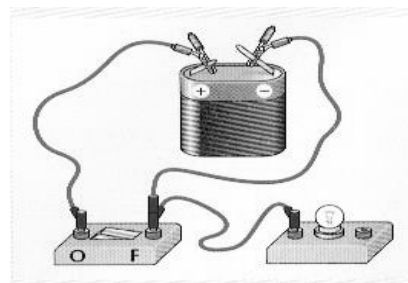
Voici 3 circuits représentés ci-dessous:



Doc : 1



Doc : 2



Doc : 3

Indiquer, **pour chaque circuit et en justifiant votre réponse** si la lampe brille.

.....

.....

.....

.....

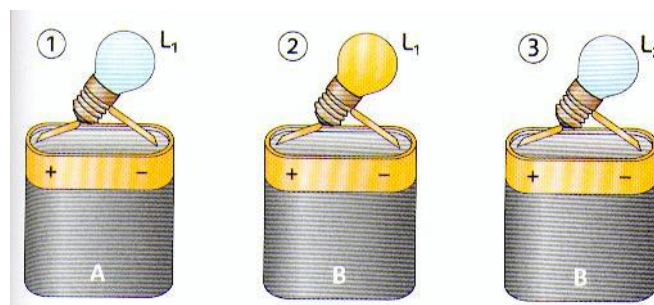
.....

.....

Exercice n° 4:

On utilise deux piles A et B et deux lampes L_1 et L_2 pour effectuer les trois montages ci-contre.

Répondre, en justifiant, aux questions suivantes:



1. La pile B est-elle usée?

.....

2. La lampe L_1 est-elle grillée?

.....

3. La pile A est-elle usée?

.....

4. La lampe L_2 est-elle grillée?

.....